

PARYS



Parys Primêre Skool
MUSIEK
Eksamen vraestel

Junie 2025

Eksaminator: M. Renison

Naam en Van: _____

Graad: 7 _____

____/50

INSTRUKSIES:

- Lees die vrae noukeurig.
- Daar is 'n afdeling A, B en C.
- Beantwoord al die vrae op die vraestel.
- Skryf netjies en leesbaar.
- Lees drie keer, dink twee keer en skryf een keer.
- Jy het 90 minute om hierdie vraestel te voltooi.

Adeling A:

Vraag 1:

1. Kies die korrekte betekenis vir die woord. Skryf slegs die letter neer:

WOORD	BETEKENIS
1.1 Partituur	A) Woord van 'n lied.
1.2 Lirieke	B) Hoe die musiek jou laat voel.
1.3 G sleutel	C) Die geskrewe notasie vir 'n stuk musiek.
1.4 Rusteken	D) Die sleutel op die tweede lyn van onder af.
1.5 Stemming	E) Stilte

- 1.1 _____
1.2 _____
1.3 _____
1.4 _____
1.5 _____

(5)

Vraag 2:

Kies die korrekte antwoord uit die woordbank: (Gee slegs die letter)

A) Tyd	B) Viool	C) Notebalk	D) Majeur	E) G sleutel
--------	----------	-------------	-----------	--------------

2.1 Hoë stemme

2.2 Vier tellings per maat

2.3 Strykinstrument

2.4 Vyf lyne en vier spasies

2.5 Stemming – vrolik

(5)

Vraag 3:





Onderstreep die korrekte antwoord: **WAAR / VALS**

3.1 "n Grafiese partitiur gebruik preutjies en simbole. WAAR / VALS

(1)

3.2 Voltooi die oop spasies in die onderstaande tabel:

(4)

Gepunteerde heelnoot	
3.2.1	
Halfnoot rus	3.2.2
	3.2.3
3.2.4	

Totaal: ____/15 (Lae orde)

Afdeling B:

Vraad 4:

4.1 Vul die volgende noe in soos gevra. Gebruik heelnote. (8)

1 2 3 4

B op 'n lyn *F in 'n spatie* *E op 'n lyn* *D op 'n lyn*

5 6 7 8

A in 'n spatie *G op 'n lyn* *E in 'n spatie* *C in 'n spatie*

4.2 Skryf die teken wat wys dat daar 3 tellings in 'n maat is: _____ (2)

Vraag 5:

(5)

5.1 Wanneer ons 'n musiekstuk of liedjie ontleed, sien ons verskillende dele. Twee dele word tweedelig genoem. (AB) Wanneer daar drie dele is, klink twee dele dieselfde met iets anders tussenin. Dit is drielikg. (ABA)

Gee voorbeelde van liedjies en hul vorm wat ons in die klas gedoen het.

Vraag 6:

Lees die volgende met begrip en beantwoord dan die vrae wat volg:

Wie speel die tromme?

Baie van die tromme mag nie deur mans en vroue gespeel word nie. Sommige mag net deur mans gespeel word en ander net deur vroue. Die groot tromme word net deur mans gespeel. Hulle moet eers deeglike opleiding ontvang.

Trom-speel-tegnieke:

Dit verg groot vaardighede. Jy kan met 'n plat hand in die middel van die tromme slaan of met vier reguit vingers aan die rand van die trom.

6.1 Wie sal die groot tromme speel? _____ (1)

6.2 Noem 2 trom tegnieke wat gebruik word om verskillende klankeffekte te kry.
_____ en _____ (2)

6.3 Waarom mag beginners nie aan groeoptredes deelneem nie?
_____ (1)

6.4 Waar op die trom moet jy met jou hand slaan?
_____ (1)

Totaal: _____ /20 (Middel orde)

Afdeling C:

Vraag 7:

7.1 Verduidelik in jou eie woorde hoe jy die waarde van 'n gepunterde noot sal uitwerk:

_____ (3)

7.2 Noem drie voorbeelde van Orff slaginstrumente wat ons in die klas gebruik het.

_____ (3)

7.3 Solfa name: Vul die ontbrekende solfa name in die korrekte volgorde in. (4)

d r _____ s l _____

